

事业单位考试真题题

公共基础知识部分

一、单选题（30题）

1. 国务院总理温家宝 2011 年 11 月 19 日出席在印尼巴厘岛举行的第六届()，发表重要讲话，并提出了应用金融危机的区域性对策。
A. 东亚峰会 B. 欧盟峰会 C. 世界经济论坛 D. 亚太经合组织论坛
2. 互联网技术对社会发展起到了巨大的推动作用，但同时对国家的安全构成了潜在的威胁。从哲学上看，这体现了()。
A. 联系的观点和发展的观点 B. 两点论和重点论的统一
C. 人们的认识随着实践的发展而变化 D. 矛盾的主次方面在一定条件下相互转化
3. “令众多游客流连忘返的美景却对贫困潦倒的贫民缺乏吸引力”这是()。
A. 先验论观点 B. 主观唯心主义观点
C. 人的感觉具有主体性的观点 D. 经验论的观点
4. 不同事物具有不同的质，这主要是由于()。
A. 不同的事物内部有其不同的否定方面
B. 不同的事物有不同的发展规律
C. 不同的事物之间存在着特殊的联系
D. 不同的事物内部有其特殊的矛盾
5. 大众心理影响经济走势，能正确解释这一现象的观点是()。
A. 社会意识对社会存在具有决定作用 B. 社会心理可以左右社会发展方向
C. 只有正确的社会意识才能影响社会发展 D. 社会意识反作用于社会存在
6. 卢梭在《论人累不平等的起源和基础》中说道：“我认为，在人类的一切知识中，最有用但也最不完善的知识就是关于人的知识。”马克思的唯物史观破解了人是什么这一“斯芬克斯之谜”，马克思在《关于费尔巴哈的提纲》中指出，人的本质在其现实性上是()。
A. 自然属性和社会属性的内在统一
B. 所有人共同属性的概括
C. 一切社会关系的总和
D. 自由理性的外化
7. “打倒列强，除军阀”；“星星之火，可以燎原”；“将革命进行到底”。上述口号所反映的历史和发展主题是()。
A. 工农武装割据 B. 新民主主义革命
C. 抗击外来侵略 D. 推翻国民政府
8. 改革开放是以进一步解放和发展生产力、巩固和发展社会主义制度为目的。邓小平提出‘改革是中国的第二次革命’是()。
A. 从扫除发展生产力障碍这个意义上说的
B. 从对束缚我们头脑的条条框框说的
C. 从根本上改变束缚我国生产力发展的政治体制上说的
D. 从根本上改变束缚我国生产力发展的经济体制上说的
9. 社会主义精神文明建设包括思想道德和教育科学文化建设两个方面，其中教育科学文化建设要解决的是整个民族的()。
A. 现代化建设智力支持的问题
B. 现代化建设精神支持的问题

揭阳华图咨询电话：0663-8295956 15323206102 18029961016（普宁揭西惠来专线）

揭阳华图咨询地址：东山黄岐山大道与建阳路交界华图营业厅（广百斜对面）

- C. 理想和精神动力问题
D. 世界观、价值观、人生观问题
10. ()是我们党和国家到 2020 年的奋斗目标。
A. 全面建设小康社会 B. 实现共同富裕 C. 建设和谐社会 D. 达到中等发达国家水平
11. 某市安全生产监督管理局在进行全市煤矿企业安全情况大检查时,发现甲企业在安全生产方面存在巨大隐患,责令该企业停产停业进行整顿,该企业对此决定不服,该企业 ()。
A. 可以向该市安全生产监督管理局申请行政复议
B. 只能向该市市政府申请行政复议
C. 可以直接向人民法院提起行政诉讼
D. 应该先向该市市政府申请行政复议,若不服复议决定,再向人民法院提起行政诉讼
12. 根据我国现行宪法和有关组织法的规定,下列关于我国现行立法体制权限划分的表述不正确的是()。
A. 全国人大修改宪法,全国人大及其常委会可以制定和修改刑法、民法和其他基本法律
B. 省、自治区、直辖市的人民代表大会及其常委会可以制定地方性法规
C. 省、自治区人民政府所在市的人民政府,可以根据法律和行政法规,制定规章
D. 自治区人民代表大会有权制定自治条例和单行条例
13. 我国刑法规定,醉酒的人犯罪 ()。
A. 可以负刑事责任 B. 可以从轻、减轻处罚
C. 应当从轻处罚 D. 应当负刑事责任
14. 下列有关法的效力的表述正确的是 ()。
A. 法的溯及力是指法对其公布以前的事件和行为是否适用
B. 我国在法的空间效力上坚持“以属地主义为主,与属人主义、保护主义相结合”的原则
C. 法律之间对同一事项的新的—般规定与旧的特殊规定不一致,应由全国人民代表大会裁决
D. 法律不溯及既往符合形式法治的要求,而有利追溯则是实质法治的要求
15. 某晚甲向乙借 5000 元钱去赌博,并答应说:“如果能赢 2 万的话,将还给乙 1 万元。”甲果然当天晚上赢了 25000 元,但事后只给乙还了 5000 元,拒绝还给乙 1 万元。于是乙向人民法院起诉 ()。
A. 人民法院应判甲违约
B. 人民法院应该确认甲、乙之间的协议无效
C. 人民法院应给没收甲的赌博赢利
D. 人民法院应判决没收甲、乙的全部赌资资金。
16. 甲不慎落水,乙奋勇抢救,抢救过程中致甲面部受伤,同时乙丢失手机一部。下列表述中哪一说法是正确的 ()。
A. 乙应赔偿甲面部受伤的损失,甲不应赔偿乙失落手机的损失
B. 乙应赔偿甲面部受伤的损失,甲应赔偿乙失落手机的损失
C. 乙不应赔偿甲面部受伤的损失,甲不应赔偿乙失落手机的损失
D. 乙不应赔偿甲面部受伤的损失,甲应赔偿乙失落手机的损失
17. 某县法院在审理一起民事案件中,为查明案件事实,对一当事人的信件进行拆检,弄清了案情并作出了判决。下列说法中正确的是 ()。
A. 法院为了查明案情可以对当事人的信件进行拆检
B. 法院对当事人与案件无关的信件无权拆检
C. 法院对当事人所有的信件都无权拆检
D. 法院拆检当事人信件并不重要,重要的是作出公正的判决
18. 货币政策与财政政策协调配合的“双松”类型,适合于 ()情况下采用
A. 保持经济适度增长的同时避免出现通货膨胀
B. 经济通货膨胀的同时,保持适度的经济增长

揭阳华图咨询电话: 0663-8295956 15323206102 18029961026 (普宁揭西惠来专线)

揭阳华图咨询地址: 东山黄岐山大道与建阳路交界华图营业厅 (广百斜对面)

C. 经济中出现严重的通货膨胀

D. 经济中出现严重的通货紧缩

19. “分配不公，贫富差距过大”是当前百姓关注的热点之一。收入分配差距已成为一个十分严重的社会经济问题，成为构建和谐、促进社会经济健康发展道路上的最大威胁。为此，我国政府必须()。

①加大社会保障资金的投入力度，提高财政预算中社会保障支出的比例

②制定和实施鼓励再就业的税收优惠政策，扩大就业数量，提高就业质量

③在收入分配中，要坚持“效率优先，兼顾公平”的原则，防止收入差距进一步扩大

④切实保障弱势群体的一切正当利益

⑤继续加大对“三农”的政策支持力度，加大对“三农”的投入

A. ①④⑤ B. ②③④⑤ C. ①②④⑤ D. ①②③④⑤

20. 绿色 GDP 是反映经济、社会可持续发展水平的综合指标。在未来 20 年内，我国将逐步建立一套完整的绿色 GDP 核算体系，这是为了()。

①增加经济总量，加快发展速度 ②促进经济又好又快发展

③扩大内需，刺激投资 ④促进生态文明建设

A. ①③ B. ①④ C. ②③ D. ②④

21. 在行政执行全过程中，()是关键环节。

A. 准备阶段 B. 实施阶段 C. 评估阶段 D. 反馈阶段

22. 对公文中若干事物和概念的表达说法正确的是()。

A. 当一个人担负多种职务时，需在公文中按职务高低依次列出

B. 除了不必或不允许精确表达之外，在公文中，必须确切的表达时间，要完整的标明年、月、日，特殊时要标出时、分

C. 涉及到国内地名的，为简化起见，可以用简称，如河南，可简称为豫。

D. 公文中应尽量避免使用各种副词，如“何等”“多么”“大致”等，以做到言简意赅

23. 行政公文的印章用印要求是()。

A. 上不压正文、下压年月 B. 上压正文、下压年月

C. 上压正文、下不压年月 D. 上不压正文、下不压年月

24. 下列请示的结束语使用得体的一项是()。

A. 以上请示，请尽快批准

B. 以上所请，如有不同意，请来函商量

C. 所请事关重大，不可延误，务必于本月 10 日答复

D. 以上所请，妥否？请批复

25. 下列选项中不属于通知的写作要求的是()。

A. 主题集中 B. 重点突出

C. 语言生动 D. 讲求时效

26. 党政联合发文，应标明()。

A. 行政机关的发文号 B. 党的机关的发文号

C. 所有机关的发文号 D. 根据具体情况临时规定的发文号

27. 下列关于我国古代科学技术的说法，不正确的是()。

A. 东汉的《九章算术》奠定了我国古代数学以计算为中心的特点

B. 汉武帝时期制定的“太阳历”是我国保存下来的第一部完整的历法

C. 张仲景的《伤寒杂病论》奠定了中医病理学的基础

D. 北魏郦道元的《水经注》至今仍是我国研究古代地理的主要著作

28. ()是中唐新乐府运动的主要倡导者。主张“文章合为时而著，歌诗合为事而作。”并将这一主张付诸自己的诗歌创作实践。

揭阳华图咨询电话：0663-8295956 15323206102 18029961086 (普宁揭西惠来专线)

揭阳华图咨询地址：东山黄岐山大道与建阳路交界华图营业厅 (广百斜对面)

A. 白居易 B. 李白 C. 杜甫 D. 王维

29. 几百年来，“四书”在我国广泛流传，其中许多语句已经成为脍炙人口的格言警句。四书不包括（ ）。

A. 《大学》 B. 《中庸》 C. 《尚书》 D. 《孟子》

30. 下列是我国古代的一些历史文化名人，其中属于两汉时期的是（ ）。

①老子 ②屈原 ③华佗 ④孔子 ⑤李斯 ⑥孙武 ⑦张衡 ⑧董仲舒

A. ①⑤⑦

B. ②⑥⑧

C. ③⑦⑧

D. ③④⑤

二、多选题（10题）

1. 下列有关法的适用的表述，错误的有（ ）。

A. 法的适用是行政机关的执法活动

B. 法的适用仅实施程序法的规定

C. 法的适用过程中不存在法律监督

D. 法的适用应做到既公正又有效率

2. 债权产生的法律依据有（ ）。

A. 合同之债 B. 无因管理之债

C. 侵权之债 D. 公平责任之债

3. 韩某 9 岁，其从事的民事活动中，做法不能得到法律确认的是（ ）。

A. 韩某继承其父商品房一套，价值 100 万元

B. 韩某将继承其父的房屋赠与希望小学

C. 韩某摸福利彩票获一等奖 5 万元

D. 韩某获书法比赛一等奖，奖金 5000 元，韩某宣布放弃

4. 依据我国《合同法》的规定，下列各项属于合同无效事由的有（ ）。

A. 超越经营范围

B. 违反国家限制经营的规定以及违反国家特许经营的规定

C. 超越资质订立建设工程合同

D. 违反法律、行政法规禁止经营的规定

5. 行政诉讼和行政复议都是行政相对人不服行政机关的具体行政行为或认为具体行政行为侵害了其权益所可能采取的救济手段，以下关于两者关系的表述正确的是（ ）。

A. 一些情况下提出行政复议后如果不服可以再提起诉讼

B. 法律、法规规定行政复议为行政诉讼的必经程序的，公民、法人或者组织未提出复议而直接提起诉讼，人民法院亦可受理

C. 对某些行政复议，由于属于终局裁定，因而不能再提起诉讼

D. 行政行为相对人选择行政复议有时即排除了行政诉讼

6. 按照以科学发展观统领经济社会发展全局的基本思路就必须（ ）。

A. 保持经济平稳较快发展，加快转变经济增长方式

B. 提高自主创新能力，促进城乡区域协调发展

C. 加强和谐社会建设

D. 不断深化改革开放

7. 货币的本质体现在它的职能上，职能有很多种，其中基本职能是（ ）。

A. 世界货币

B. 价值尺度

C. 流通手段

D. 支付手段

8. 《××省旅游条例》规定，纠缠旅客购物最高可罚 1 万元，这种宏观调控运用的方法和手段是（ ）。

A. 间接调控

B. 行政手段

C. 经济手段

D. 法律手段

揭阳华图咨询电话：0663-8295956 15323206102 18029961016（普宁揭西惠来专线）

揭阳华图咨询地址：东山黄岐山大道与建阳路交界华图营业厅（广百斜对面）

9. 每年 3 月，我国都要召开全国人民代表大会和全国政治协商会议，全国人大代表和全国政协委员汇集北京，共商国是。下列表述中，不正确的有（ ）。
- 代表的任务是参政议政，委员的任务是政治协商
 - 代表参与制定国家法律，委员参与对国家重大事务的协商
 - 人大是最高国家权力机关，政协是最高国家监督机关
 - 人大直接创建国家管理制度，政协间接创建国家管理制度
10. 下列属于非政府公共机构性质的事业单位有（ ）。
- 社会科学界联合会
 - 各类大专院校
 - 社会科学院
 - 计划生育协会

三、判断题（10题*0.5）

- 诉讼时效届满后，权利人的胜诉权随之丧失。因此即使义务人自动履行义务，权利人也无权接受（ ）。
 - 公民对其作品的署名权、修改权、保护作品完整权、发表权、使用权及获得报酬权的保护期为作者终生及其死亡后五十年（ ）。
 - 行政法和刑法、民法一样，有一部系统、完整、统一的法典（ ）。
 - 上级人民法院领导下级人民法院的审判工作（ ）。
 - 马克思主义哲学，为具体科学研究提供了世界观和方法论的指导（ ）。
 - 世界统一于存在（ ）。
 - “一把钥匙开一把锁”的俗语对我们的启示是要坚持具体问题具体分析（ ）。
-
- 中国共产党和各民主党派合作的政治基础是坚持四项基本原则（ ）。
 - 全面建设小康社会是我们党和国家到 2020 年的奋斗目标（ ）。
 - 新中国成立后，党的任务就是立即消灭资本和资本主义，建立社会主义制度（ ）。

行政职业能力测验部分

选词填空：共 5 题。要求你从四个选项中选出一个填空，使句子的意思表达得最准确。

- 股市上的投资者，大多被人性的贪婪和恐惧这两种情绪所_____，在股市大涨时不愿意放手，总以为好日子会永远继续，而当股市一片_____之时，便失魂落魄，以为黑暗的日子看不到尽头。填入划横线部分最恰当的一项是（ ）。
 - 拖累 凄风冷雨
 - 蛊惑 愁云惨雾
 - 奴役 哀鸿遍野
 - 左右 惨不忍睹
- “三个有利于”标准，是不可分割的统一的整体，是从生产力、生产关系、经济基础、上层建筑的综合高度，言简意赅地指出了社会主义的_____特征。填入划横线部分最恰当的一项是（ ）。
 - 基本
 - 唯一
 - 本质
 - 突出
- 就像《小王子》一样，好的儿童文学作品应该是大人和小孩所能共读的，小孩读了有小孩的想法，大人读了有大人的_____。我们不时会有好作品出现，但是商业大潮催生了不少速成的作品，浮躁之气、铜臭之气_____着儿童文学的创作生态。填入划横线部分最恰当的一项是：
 - 感叹 改变
 - 感慨 破坏
 - 感动 影响
 - 感悟 冲击

揭阳华图咨询电话：0663-8295956 15323206102 18029961016（普宁揭西惠来专线）

揭阳华图咨询地址：东山黄岐山大道与建阳路交界华图营业厅（广百斜对面）

- A. 看对方的神态，全然没有剑拔弩张、严阵以待的气势、倒有几分闲庭信步、瓜田李下话桑麻的味道。
- B. 胡同文化是一种封闭的文化，住在胡同里的居民大都安土重迁，不大愿意搬家。
- C. 这伙盗贼真是猖狂，竟然在犯罪现场坐地分赃，结果被及时赶到的警察全部擒获。
- D. 有的人说是“反腐倡廉”，做的却是“贪污腐化”，真的令人不可理喻

数字推理。给你一个数列，其中缺少一项，要求你仔细观察数列的排列规律，然后从四个供选择的选项中选择你认为最合适的一项，来填补空缺项，使之符合原数列的排列规律。

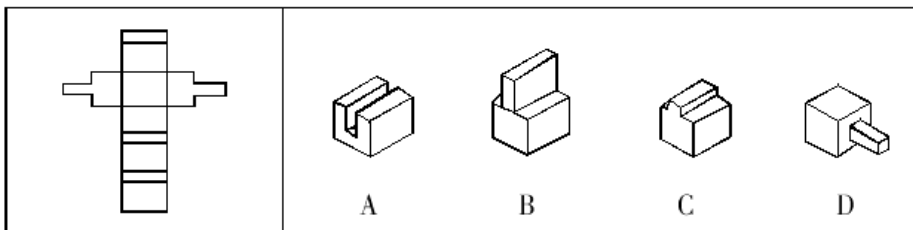
11. 3, 12, 30, 63, 117, ()
A. 187 B. 198 C. 193 D. 196
12. 6, 10, -18, 22, ()
A. 0 B. 20 C. -24 D. -20
13. 1, 4, 11, 27, 61, 133, ()
A. 324 B. 279 C. 221 D. 186
14. 1, 6, 15, 28, ()
A. 32 B. 36 C. 45 D. 90
15. 1, 3, 4, 13, 53, ()
A. 267 B. 531 C. 690 D. 891

数学运算。在这部分试题中，每道试题呈现一段表述数字关系的文字，要求你迅速、准确地计算出答案。你可以在草稿纸上运算。

16. 甲、乙、丙、丁四人，其中每三个人的岁数之和分别是 55, 58, 62, 65。这四个人中年龄最小的岁数是：
A. 7 B. 10 C. 15 D. 18
17. 足球比赛积分规则是：胜一场得 3 分，平一场得 1 分，负一场得 0 分。某足球队打了 16 场，负 8 场，共得 16 分，那么这个球队胜了几场？
A. 3 B. 4 C. 5 D. 6
18. 老师出了若干份试卷，以各份试卷的平均分计算考生的成绩，某考生最后一份试卷得 97 分，则平均分为 90 分，若该考生最后一份试卷得 73 分，则平均分为 87 分，那么这组试卷的份数是？
A. 8 B. 9 C. 10 D. 11
19. 1-200 这 200 个自然数中，既能被 4 又能被 6 整除的数有多少个？
A. 65 B. 16 C. 67 D. 68
20. 赵先生 34 岁，钱女士 30 岁，一天，他们碰上了赵先生的三个邻居，钱女士问起了他们的年龄，赵先生说：他们三人的年龄各不相同，三人的年龄之积是 2450，三人的年龄之和是我俩年龄之和。问三个邻居中年龄最大的是多少岁？
A. 42 B. 45 C. 49 D. 50

图形推理：共 5 题。请根据每道题的要求作答。

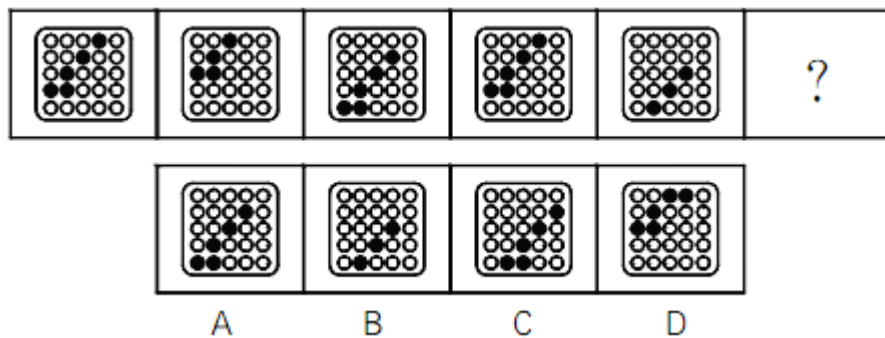
21. 将下面左图进行折叠后，得到的图形是 ()



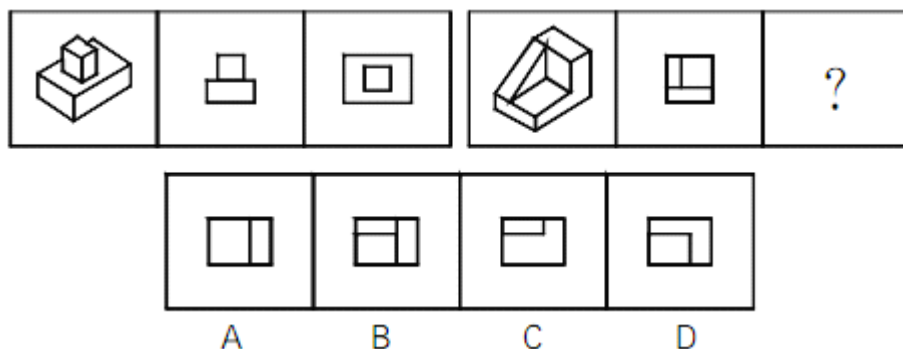
22. 从所给的四个选项中，选择最合适的一个填入问号处，使之呈现一定的规律性：

揭阳华图咨询电话：0663-8295956 15323206102 18029961076 (普宁揭西惠来专线)

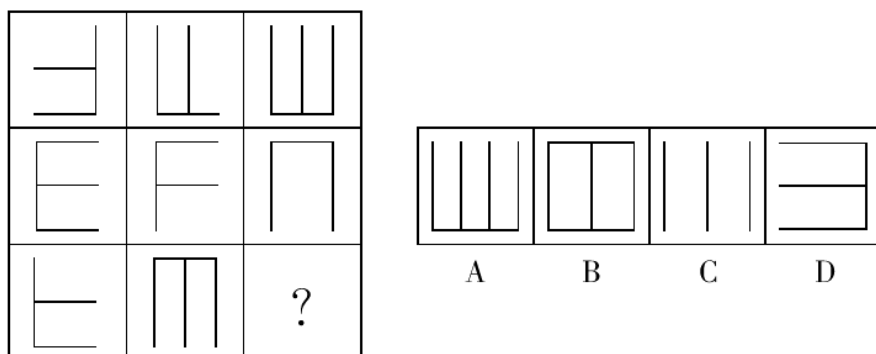
揭阳华图咨询地址：东山黄岐山大道与建阳路交界华图营业厅 (广百斜对面)



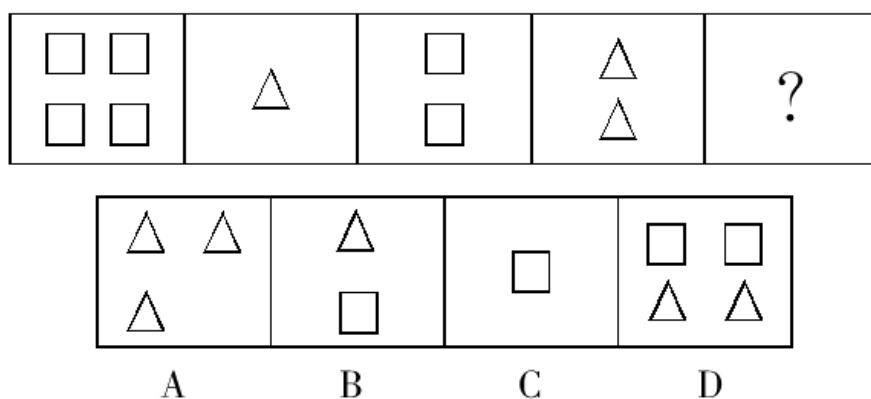
23. 从所给的四个选项中，选择最合适的一个填入问号处，使之呈现一定的规律性：



24. 从四个选项选择最合适的一个填入问号处，使之呈现一定的规律性：



25. 从四个选项选择最合适的一个填入问号处，使之呈现一定的规律性：



逻辑判断：共 5 题。每题给出一段陈述，这段陈述被假设是正确的，不容置疑的。要求你根据这段陈述，选出一个答案。

注意：正确的答案应与所给的陈述相符合，不需要任何附加说明即可以从陈述中直接推出。

26. 有以下几个条件成立：(1) 如果小王是工人，那么小张不是医生；(2) 或者小李是工人，或者小王是工人；(3) 如果小张不是医生，那么小赵不是学生；(4) 或者小赵是学生，或者小周不是经理。

以下哪项如果为真，可得出“小李是工人”的结论？

- A. 小周不是经理
B. 小王是工人
C. 小赵不是学生
D. 小周是经理

27. 乒乓球单打决赛在甲、乙、丙、丁四位选手中进行，赛前，有些人预测比赛的结果，A 说：甲第 4。B 说：乙不是第 2，也不是第 4。C 说：丙的名次在乙的前面。D 说：丁将得第 1。比赛结果表明，四个人中只有一个人预测错了。

那么，甲、乙、丙、丁四位选手的名次分别为？

- A. 2、3、4、1 B. 1、2、4、3 C. 1、3、4、2 D. 4、3、1、2

28. 9 个人组成的投票体，民主地决定各种议案，议案获得通过需要 5 票或 5 票以上。此时每个人的权力均等。一旦其中出现 5 个或 5 个以上的人结盟，那么其余的人实际上已被出局。若 9 个人形成 4 个联盟，人数分别为 3、3、2、1，每个联盟的权力不再相等。

由此推出结论：

- A. 人数分别为 3、3、2 的权力相等，人数为 1 的联盟的权力为 0
B. 若 9 个人形成 3 个联盟，这 3 个联盟的人数分别为 4、3、2
C. 若 9 个人形成 3 个联盟，各联盟所拥有的权力均等
D. 人数分别为 3、3、2 的权力相等，人数为 1 的联盟的权力为 1

29. 小东在玩“勇士大战”游戏，进入第二关时，界面出现四个选项。第一个是“选择任意选项都需要支付游戏币”，第二个选项是“选择本项后可以得到额外游戏奖励”，第三个选项是“选择本项后游戏不会进行下去”，第四个选项是“选择某个选项不需要支付游戏币”。

如果四个选项中的陈述只有一句为真，则以下哪项一定为真？

- A. 选择任意选项都需要支付游戏币
B. 选择任意选项都不需要支付游戏币
C. 选择第二个选项后可以得到额外游戏奖励
D. 选择第三个选项后游戏能继续进行下去

30. 在一项试验中，一半的人摄取了大量的人们常吃的人造糖，另一半人没有吃糖。后来发现，吃糖的一半比没有吃糖的一半认知能力低。这一结果的决定因素是糖中的一种主要成分—氨基酸。

下列哪个选项，如果为真，能够最有力地支持上述结论？

- A. 政府有关人造糖的分析表明，出售的糖是相对纯净的
B. 血液中氨基酸含量高使得一种使头脑正常运转的物质发生化合反应
C. 由于糖是一种食品添加剂，对糖的不良反应很少受到消费者的重视
D. 氨基酸是糖中的一种成分，但单独氨基酸本身也是人们每日不可缺少的

类比推理：共 5 题。类比推理考察的是一种推理能力，先给考生一对相关的词，然后要求考生在备选答案中找出一对与之在逻辑关系上最为贴近或相似的词。

请开始答题：

31. 歇斯底里：癔症

- A. 买单：结账 B. 脚踏车：自行车
C. 引擎：发动机 D. 可口可乐：饮料

32. 收入分配：基尼系数

- A. 食品支出：恩格尔系数 B. CPI：消费者价格指数

揭阳华图咨询电话：0663-8295956 15323206102 18029961016（普宁揭西惠来专线）

揭阳华图咨询地址：东山黄岐山大道与建阳路交界华图营业厅（广百斜对面）

- C. 环境保护：幸福指数 D. 香港：恒生指数
33. () 对于 大脑 相当于 资料 对于 ()
- A. 智力 书籍 B. 记忆 硬盘
- C. 细胞 图书馆 D. 学习 阅读
34. () 对于 建筑 相当于 计划 对于 ()
- A. 设计 成果 B. 图纸 工作
- C. 材料 战略 D. 施工 目标
35. () 对于 信箱 相当于 电脑 对于 ()
- A. 邮件 激光 B. 邮局 硬盘
- C. 邮递员 程序员 D. 光缆 光驱

事件排序：共5题，在回答问题时，要根据自己的一般知识和对事件间的逻辑关系的理解做些补充或合理的假设，以填补缺欠的信息。每道题给出五个事件，每个事件是以简短语句表述的，接着给出四种假定发生顺序的数字序列，请你选择其中最合乎逻辑的一种事件顺序。注意要以最少的假设来联系和安排这五个事件的发生顺序。

请开始答题：

36. ①考古学家买了一个古陶器 ②一个古陶器被人发现
③考古学家寻找一座古城堡 ④古陶器被卖给小贩
⑤考古学家发现了一座古城堡
- A. ②—④—①—③—⑤ B. ⑤—③—④—②—①
- C. ①—②—④—⑤—③ D. ⑤—②—④—③—①
37. ①洗脸刷牙 ②吃早饭 ③起床
④做早饭 ⑤出门上班
- A. ③—④—②—①—⑤ B. ③—④—①—②—⑤
- C. ⑤—④—③—②—① D. ③—①—②—④—⑤
38. ①创作电影插曲 ②接到配音任务
③歌曲被广为传唱 ④到基层体验生活
⑤电影取得成功
- A. ②—④—①—③—⑤ B. ①—③—②—⑤—④
- C. ②—④—①—⑤—③ D. ②—①—⑤—④—③
39. ①暴风雨袭击了这一地区 ②列车不能正常运行
③铁路局重新制定了运行计划 ④洪水冲毁了几处铁路
⑤天气预报台风将在这一带登陆
- A. ①—②—④—⑤—③ B. ⑤—①—④—②—③
- C. ⑤—①—③—④—② D. ⑤—③—①—④—②
40. ①为解决交通问题，许多人购置了私人汽车
②政府采取了限制私人购车的措施
③人们把目光投向了公共交通设施
④大量小汽车使马路变得拥挤不堪
⑤由于房价原因，许多人搬到郊区居住
- A. ①—④—②—③—⑤ B. ①—②—③—④—⑤
- C. ⑤—①—④—②—③ D. ③—④—①—②—⑤

资料分析

本部分题目是几组资料，或者是文字资料或者是图表。针对每一段文字或每一个图表，后面有几个问题需要你回答。

你应根据资料提供的信息进行分析、比较、计算和判断处理，然后选出你认为最合适的答案。

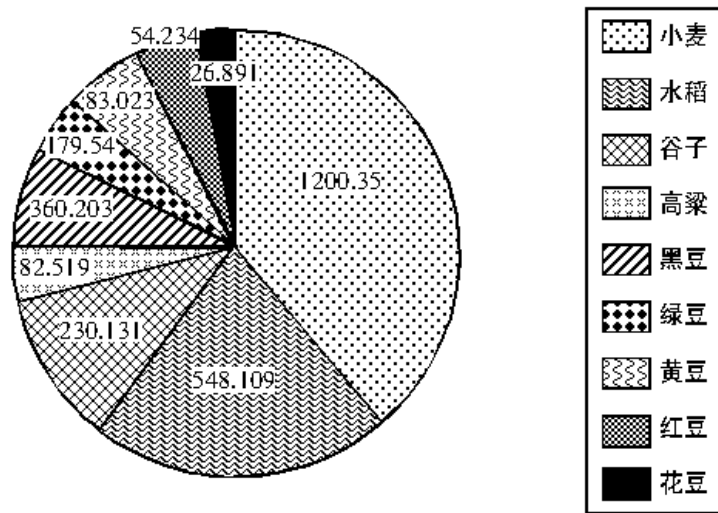
揭阳华图咨询电话：0663-8295956 15323206102 18029961010（普宁揭西惠来专线）

揭阳华图咨询地址：东山黄岐山大道与建阳路交界华图营业厅（广百斜对面）

一、根据下列文字材料，回答 41-45 题。

北方某地区粮食作物产量统计图规划图表

(单位:万斤)



41. 小麦的产量占粮食作物总产量的百分之多少?
 A. 41.5% B. 43.4% C. 45.1% D. 46.3%
42. 豆类作物产量占粮食作物总产量的比例比夏粮作物产量占粮食作物总产量的比例少多少个百分点?
 A. 21 个百分点 B. 20 个百分点
 C. 19 个百分点 D. 18 个百分点
43. 秋粮作物中产量最大的是产量最小的几倍?
 A. 45 倍 B. 35 倍 C. 20 倍 D. 18 倍
44. 豆类作物中产量排第二位的占非豆类作物中产量排第二位的百分比是多少?
 A. 19.82% B. 28.35% C. 32.76% D. 46.14%
45. 粮食作物中的高秆作物产量占秋粮作物产量的百分之多少?
 A. 8.5% B. 5.3% C. 6.4% D. 10.8%

二、根据下列文字材料，回答 46-50 题。

国家工商总局公布的数据显示，2009 年第一季度，全国工商行政管理机关共查处各类违法违章案件 68202 件，同比下降 29.98%；其中立案查处案件 49654 件，同比下降 32.26%。案件总值 33.57 亿元，同比下降 21.26%，罚没金额 3.33 亿元，同比下降 39.49%。

从违反法规看，违法企业登记管理法规案件 9216 件，同比下降 38.54%；违反产品质量法规案件 6760 件，同比下降 27.51%；违反反不正当竞争法规案件 4944 件，同比增长 6.51%；违反商标法规案件 4119 件，同比下降 21.93%；违反广告法规案件 2141 件，同比下降 24.27%；违反消费者权益保护法规案件 1644 件，下降 13.66%；违反合同法规案件 156 件，同比下降 57.02%。

从违法主体看，在立案查处的案件中，个体工商户案件 22142 件，同比下降 22.73%；自然人案件 12472 件，同比下降 49.04%；公司案件 6521 件，同比下降 21.37%，私营企业案件 3957 件，同比下降 22.27%；集体企业案件 728 件，同比下降 45.26%。

46. 若保持同比下降率不变，预计 2010 年第一季度全国立案查处案件数将：
 A. 接近 4.8 万 B. 接近 3.4 万 C. 接近 1.6 万 D. 接近 2.1 万
47. 2009 年第一季度，违反产品质量法规案件减少量是违反商标法规案件减少量的几倍？
 A. 1.25 B. 1.56 C. 1.77 D. 2.22

揭阳华图咨询电话：0663-8295956 15323206102 18029961016（普宁揭西惠来专线）

揭阳华图咨询地址：东山黄岐山大道与建阳路交界华图营业厅（广百斜对面）

48. 2009年第一季度，各类违法主体占立案查处案件比重的最高值与最低值相差多少？
A. 43.13% B. 36.62% C. 31.40% D. 26.67%
49. 下列说法与资料相符的有几个？
(1) 2009年第一季度，罚没金额同比下降率大于案件总值同比下降率
(2) 2008年第一季度，违反合同法规案件为353件
(3) 2009年第一季度，公司案件数大于私营企业案件与集体企业案件数之和
A. 0 B. 1 C. 2 D. 3
50. 根据上述资料，以下描述不正确的是：
A. 2009年第一季度，自然人案件与集体企业案件同比下降均超过40%
B. 2009年第一季度，违反广告法规案件占各类违法违规案件的比重为3.14%
C. 2009年第一季度，违反各类法规案件与去年同期相比均有下降
D. 2009年第一季度，违反反不正当竞争法规案件数量大约是违反消费者权益保护法规案件数量的3倍

常识判断

根据题目要求，在四个选项中选出一个正确答案。

51. 唯物辩证法的总特征是：
A. 否定之否定的观点 B. 对立统一的观点
C. 质量互变的观点 D. 联系和发展的观点
52. 衡量社会生产力发展水平的物质标志是：
A. 劳动资料 B. 生产工具
C. 劳动对象 D. 生产资料
53. 许多成语源于我国古代著名的历史故事。
下列成语故事发生在战国时期的是：
A. 卧薪尝胆 B. 退避三舍 C. 秦晋之好 D. 负荆请罪
54. 下列诗句作者是杜甫的是：
A. “春蚕到死丝方尽，蜡炬成灰泪始干”
B. “感时花溅泪，恨别鸟惊心”
C. “天生我材必有用，千金散尽还复来”
D. “春潮带雨晚来急，野渡无人舟自横”
55. 下列关于文史知识的表述不正确的是：
A. “及笄”是指女子十五岁
B. 乡试第一名称为“会元”
C. “五经”指《诗经》、《尚书》、《礼记》、《易经》和《春秋》
D. 晚清四大谴责小说包括《官场现形记》、《二十年目睹之怪现状》、《老残游记》和《孽海花》
56. 下列关于“元宵节”的别称不正确的是：
A. 元夕节 B. 上元节 C. 正月半 D. 中元节
57. 20世纪90年代以后，中国内地形成了一些跨省区市的经济区域：①长江三角洲和长江沿江地区经济带；②以广州、深圳为中心的珠江三角洲地区经济带；③包括北京、天津、河北、辽宁、山东、山西、内蒙古在内的环渤海地区经济区；④中部地区经济区，包括河南、湖北、湖南、安徽、江西。
上述经济区域形成的先后顺序是：
A. ①②③④ B. ②①④③
C. ②④③① D. ④③①②
58. 当潮湿的气团前进时，遇到高山阻挡，气流被迫缓慢上升，引起绝热降温，发生凝结，这样形成的降雨，称为（ ）。

揭阳华图咨询电话：0663-8295956 15323206102 18029961016（普宁揭西惠来专线）

揭阳华图咨询地址：东山黄岐山大道与建阳路交界华图营业厅（广百斜对面）

A. 对流雨 B. 气旋雨 C. 地形雨 D. 台风雨

59. 下列关于“缓刑”的说法中，不适当的一项是：

- A. 累犯不适用缓刑
- B. 缓刑只适用于被判处 5 年以下有期徒刑的犯罪分子
- C. 被宣告缓刑的犯罪分子，在缓刑考验期限内，由公安机关考察
- D. 如果没有法定的应当撤销缓刑的情形，缓刑考验期满，原判的刑罚就不再执行，并公开予以宣告

60. 根据《公务员法》，国家实行公务员职位分类制度。与“品位分类”相比，“职位分类”的特点是：

- A. 以“人”为中心，分类简单，重视公务员的人品条件和学历、资历
- B. 以“事”为中心，分类详尽，重视职位工作和公务员个人的专长，官职与官阶合一
- C. 以人为对象进行分类，官职与级别相对分离
- D. 突出对公务员的品级、官阶的区分，公务员队伍组织严密、等级分明

事业单位自测题答案

一、单选题

1. 【答案】A。解析：2011 年 11 月 19 日，第六届东亚峰会在印度尼西亚巴厘岛开幕。中国国务院总理温家宝出席会议。
2. 【答案】B。解析：唯物辩证法要求我们在实践中要用辩证的观点看问题，坚持两点论和重点论的统一，在看到互联网技术的巨大作用的同时，应当注意到对国家安全的潜在威胁。
3. 【答案】C。解析：物质决定意识，意识是物质的反映，但人的意识具有主体性，不同的人由于社会背景的不同，对于同一事物，有着不同的不同的反映。
4. 【答案】D。解析：矛盾特殊性构成了一事物区别于他事物的特殊本质。也就是题干中的“不同的事物有不同的质”
5. 【答案】D。解析：心理是属于社会意识的范畴，经济走势属于社会存在的范畴，大众心理影响经济走势是社会意识反作用于社会存在。
6. 【答案】C。解析：唯物史观认为社会历史是由现实的个人及其活动构成的。所谓现实的人是基于自身需要和社会需要而从事一定实践活动的、处于一定社会关系中的、具有能动性的人。
7. 【答案】B。解析：选项 C 和 D 都具有片面性，选项 A 又过于狭窄。
8. 【答案】D。解析：邓小平所说的改革指经济体制的改革。
9. 【答案】A。解析：社会主义精神文明建设包括思想道德建设和教育科学文化建设两个方面，思想道德建设要解决的是整个民族的精神支柱和精神动力问题；教育科学文化建设，要解决的是整个民族的科学文化素质和现代化建设的智力支持问题。故本题答案为 A。
10. 【答案】A。解析：十七大报告指出：把全面建设小康社会作为我们党和国家到 2020 年的奋斗目标。
11. 【答案】C。解析：根据我国《行政诉讼法》规定，该企业既可以向该市政府或省安全生产管理局申请行政复议，也可以直接向人民法院提起行政诉讼，只有 C 项符合。目前我国法律法规和司法解释规定的复议前置的情况比较少，考生只需记住如下几种：（1）对国务院部门或者省、自治区、直辖市人民政府的具体行政行为不服的；（2）对土地、矿藏、水流、森林、山岭、草原、荒地、滩涂、海域等自然资源的所有权或者使用权的争议；（3）被审计单位对审计决定不服的；（4）对反垄断执法机构作出的决定不服的；（5）纳税争议。
12. 【答案】A。解析：《立法法》第 7 条规定，全国人民代表大会制定和修改刑事、民事、国家机构的和其他的基本法律。全国人民代表大会常务委员会制定和修改除应当由全国人民代表大会制定的法律以外的其他法律。因此 A 项明显错误。

揭阳华图咨询电话：0663-8295956 15323206102 18029961016（普宁揭西惠来专线）

揭阳华图咨询地址：东山黄岐山大道与建阳路交界华图营业厅（广百斜对面）

该法第 63 条规定，省、自治区、直辖市的人民代表大会及其常务委员会根据本行政区域的具体情况和实际需要，在不同宪法、法律、行政法规相抵触的前提下，可以制定地方性法规。B 项正确。

该法第 73 条规定，省、自治区、直辖市和较大的市的人民政府，可以根据法律、行政法规和本省、自治区、直辖市的地方性法规，制定规章。较大的市是省、自治区的人民政府所在地的市，经济特区所在地的市和经国务院批准的较大的市。C 项正确。

该法第六十六条规定，民族自治地方的人民代表大会有权依照当地民族的政治、经济和文化的特点，制定自治条例和单行条例。D 项正确。

13. 【答案】D。解析：根据我国刑法的规定，醉酒的人犯罪的，应当追究其刑事责任，不管其当时是否能够辨认和控制自己的行为。故选 D 项。

14. 【答案】D。解析：法的溯及力是指法对其“生效”以前的事件和行为是否适用，而非“公布”以前，A 错误：“以属地主义为主，与属人主义、保护主义相结合”的原则是我国法律在对人效力的体现，而非空间效力，B 错误。法律之间对同一事项的新的一般规定与旧的特殊规定不一致，应由相应的制定机关裁决。C 错误。法治的要求包括形式法治和实质法治，前者体现的法律的形式性和可预测性、后者则更多考虑了法律的正当性，体现的是实质法治的要求，D 正确。正确答案为 D。

15. 【答案】B。解析：根据司法解释，附条件的民事行为，如果所附的条件是违背法律规定或者不可能发生的，应当认定该民事行为无效。人民法院在民事诉讼中，无权没收甲的赌博赢利或全部赌资资金，需要处理的应该由公安机关处理。

16. 【答案】D。解析：乙的行为属于无因管理。根据《民法通则》93 条的规定及民法原理，本人应当支付管理人的必要费用，必要费用包括管理过程中所受到的损失。而乙对本人承担损失的前提是因乙的故意或重大过失造成本人损害。在本题中不存在这种情形，因此乙不用承担甲的这种损失。

17. 【答案】C。解析：《宪法》第 40 条规定，公民的通信自由和通信秘密受法律保护。只能由公安机关或者检察机关依照法律规定的程序对通信检查外，除此外，任何组织和个人无权对公民的信件进行拆检。所以只有第 3 项是正确的。

18. 【答案】D。解析：通货紧缩(deflation)是指：当市场上流通货币减少，人民的货币所得减少，购买力下降，影响物价之下跌，造成通货紧缩。长期的货币紧缩会抑制投资与生产，导致失业率升高及经济衰退。此时要实行扩张性的财政政策和货币政策，加大财政投入与货币投放，即“双松”。

19. 【答案】C。解析：坚持“效率优先，兼顾公平”的原则，并不能防止收入差距进一步扩大。

20. 【答案】D。解析：绿色 GDP 是指在通常的 GDP 指标中，扣除自然资产损失，即扣除生态成本之后形成的真实的国民财富。这个指标，实质上代表了国民经济增长的净正效应。更有利于生态环境的保护，实现经济环境的协调发展。实行绿色 GDP 后，经济总量因为扣除了资源成本，所以是下降的；且绿色 GDP 与扩大内需不相关，所以排除①③；D 项正确。

21. 【答案】B。解析：行政执行：也称行政实施，是行政机关及行政人员依法实施行政决策，以实现预测行政目标和社会目标的活动总和。行政执行本身包括的主要环节有执行的准备、执行的实施、执行的监控。其中，行政执行的实施阶段是整个行政执行过程的关键，它关系到行政执行能否获得理想的成果，关系到行政决策的目的能否实现。

22. 【答案】D。解析：言简意赅，是公文写作的基本要求，因此公文中应尽量避免使用各种副词，如“何等”“多么”“大致”等。

23. 【答案】A。解析：印章盖章位置很重要，要求印章与正文时间不允许更加内容，因此控制印章正文间 3-5cm 内盖章。由于这个位置比较难掌握，则可控制在正文下一行字距范围内盖章。这样正文下也不好加文字内容了，保证了防伪。另外要求印章必须盖在成文时间上即印章应压成文年月日几个字上，防止空白印章。

24. 【答案】D。解析：请示是下级机关向上级机关请求对某项工作、问题作出指示，对某项政策界限给予明确，对某事予以审核批准时使用的一种请求性公文，是应用写作实践中的一种常用文体。可见，上级对于请示批复否有决定权。因此，语气要委婉，不能强硬。比较四个选项，D 选项最委婉得体。

揭阳华图咨询电话：0663-8295956 15323206102 18029961016（普宁揭西惠来专线）

揭阳华图咨询地址：东山黄岐山大道与建阳路交界华图营业厅（广百斜对面）

25. 【答案】C。解析：通知写作要求：使用要慎重、严肃；内容要清楚、明确；行文要及时。所以C不正确。应选。
26. 【答案】D。解析：联合行文时，只标明主办机关的发文字号。党政联合行文，主办机关是党的机关，因此，应标明党的机关的发文号。
27. 【答案】B。解析：汉武帝时期的“太初历”是保存下来的第一步完整历法
28. 【答案】A。解析：白居易是中唐新乐府的代表人物主要著作有《长恨歌》
29. 【答案】C。解析：四书指的是《论语》《孟子》《大学》和《中庸》；
30. 【答案】C。解析：华佗是东汉末年的医学家，张衡是东汉时期的伟大科学家，发明了地动仪，董仲舒是西汉学者，提出了“罢黜百家，独尊儒术”的建议。
31. 【答案】ABC。解析：本题考查法的适用。法的适用，即司法，是指国家司法机关依据法定职权和程序，具体应用法律处理案件的专门活动。它不同于法的执行，即执法。故A错误。法的适用的对象既包括实体法，也包括程序法。故B错误。法律监督的内容是指法律监督对象行为的合法性问题，其中主要是指国家机关及其公职人员职务活动的合法性，也包括对法的适用过程中司法行为的合法性。故C错误。公正和效率是司法并不矛盾的二个目标。故D正确。
32. 【答案】ABC。解析：我国民法通则规定了四种债产生的根据即：合同之债；无因管理之债；侵权之债；不当得利之债。公平责任不是债发生的根据，而是无因管理之债分担的方式。故D不正确。
33. 【答案】BD。解析：无民事行为能力人除可以从事事实行为以外，只能从事纯获益的民事法律行为。而放弃奖金、赠与房屋等行为都是民事行为，而且不是纯获益的行为，因此无民事行为能力人不能独立实施。
34. 【答案】BCD。解析：合同严重欠缺有效要件，绝对不允许按照当事人合意的内容赋予其法律效果，即为合同无效。合同无效的事由通常均源于法律的规定。《合同法解释（一）》第10条规定：“当事人超越经营范围订立合同，人民法院不因此认定合同无效。但违反国家限制经营、特许经营以及法律、行政法规禁止经营规定的除外。”因此，BD属于合同无效的事由。《最高人民法院关于审理建设工程施工合同纠纷案件适用法律若干问题的解释》第1条规定：“建设工程合同具有下列情形之一的，应当根据合同法第五十二条第（五）项的规定，认定无效：（一）承包人未取得建筑施工企业资质或者超越资质等级的；（二）没有资质的实际施工人借助有资质的建筑施工企业名义的；（三）建设工程必须进行招标而未招标或者中标无效的。”因此，C项也属于合同无效的事由。故本题的正确答案为BCD。
35. 【答案】ACD。解析：本题考查行政复议与行政诉讼的关系。两者在程序上的关系大致有以下几种：（1）选择关系，即在两者之间进行选择，复议之后仍可以提起诉讼；（2）复议前置关系，即要想提起行政诉讼必须先经过行政复议；（3）复议终局，即行政复议决定为终局决定，当事人无法再提出诉讼；（4）选择兼终局关系，即当事人可以选择行政复议或诉讼，但一旦选择复议后就不能再提起诉讼。行政诉讼法解释第33条第1款规定：法律、法规规定应当先申请复议，公民、法人或者其他组织未申请复议直接提起诉讼的，人民法院不予受理。因此，B错误。
36. 【答案】ABCD。解析：以科学发展观统领经济社会发展全局，必须坚持以下原则：必须保持经济平稳较快发展；必须加快转变经济增长方式；必须提高自主创新能力；必须促进城乡区域协调发展；必须加强和谐社会建设；必须不断深化改革开放。
37. 【答案】BC。解析：马克思主义政治经济学认为，货币的职能有五种，分别是价值尺度、流通手段、贮藏手段、支付手段、世界货币，其中价值尺度和流通手段是随着货币的产生而产生的，是货币的基本职能。货币的其他职能是随着商品交换发展的不同阶段而逐步产生的，是货币的基本职能，是价值尺度和流通手段这两种基本职能的延伸和应用。
38. 【答案】AD。解析：采取宏观调控的手段有：

（1）法律手段，指国家通过制定和运用经济法规来调节经济活动的手段。主要通过经济立法和经济司法进行调节经济。

（2）经济手段，是国家运用经济政策和计划，通过对经济利益的调整来影响和调节经济活动的措施。主要方法有：①财政政策和货币政策的调整；②制定和实施经济发展规划、计划等，对经济活动进行引导。

揭阳华图咨询电话：0663-8295956 15323206102 18029961016（普宁揭西惠来专线）

揭阳华图咨询地址：东山黄岐山大道与建阳路交界华图营业厅（广百斜对面）

(3) 行政手段,指国家通过行政机构,采取带强制性的行政命令、指示、规定等措施,来调节和管理经济。如利用工商、卫生检疫、海关等部门禁止或限制某些商品的生产与流通。

题干中的条例是法的表现形式之一,一般是对特定社会关系作出的规定。这种通过制定和运用经济法规来调节经济活动的手段是法律手段,运用的方法是间接调控的方法。故本题的正确答案为AD。

39.【答案】ACD。解析:人民政协的主要职能是政治协商、民主监督、参政议政。但不能说政协委员的任务是政治协商。通过委员的建言献策、参政议政来实现人民政协的主要职能。全国人大是我国的最高权力机关,我国最高国家监督机关是全国人大常委会。政协是不能创建国家管理制度的。

40.【答案】ACD。解析:具有非政府公共机构性质的事业单位,如社会科学联合会、社会科学院、基础理论研究所、图书馆、博物馆、直接为政府决策和行政管理提供咨询、技术支持的机构、计划生育协会等等。故选ACD。

三、判断题

41.【答案】错误。解析:诉讼时效期间届满,权利人仅丧失胜诉权,仍享有实体权利,故义务人自愿履行义务时,权利人可接受。

42.【答案】错误。解析:公民对其作品的署名权、修改权、保护作品完整权的权利,其保护期限不受限制。若受限制,那古代名著的作者早就被人篡改姓名了。

43.【答案】错误。解析:行政法没有统、完整、统一的法典。而且民法也没有,《民法通则》不是民法典。

44.【答案】错误。解析:我国上下级人民法院之间的关系不是领导关系,而是监督关系。

45.【答案】正确。解析:马克思主义哲学与具体科学之间的关系是马克思主义哲学为具体科学提供正确的世界观和方法论的指导,具体科学为马克思主义哲学提供基础。

46.【答案】错误。解析:“世界统一于存在”是一个错误的折衷主义的命题,之所以是错误的,是因为“存在”是什么,在这里不明确的;如果存在是精神,世界统一于存在是统一于精神,这是唯心主义的命题;反过来,如果存在是物质,世界统一于存在就是统一于物质,这是唯物主义的命题。存在不等于物质的客观实在性。划分唯心主义和唯物主义的标准的哲学基本问题的第一方面,是思维和存在何者为第一性的问题。“世界统一于存在”命题的要害即使回避哲学基本问题的第一个方面,而这一点是无法回避的。

47.【答案】正确。解析:只有具体地分析矛盾的特殊性,才能找到解决某一特殊矛盾的特殊方法,即“一把钥匙开一把锁”,这是矛盾特殊性的体现。

48.【答案】正确。解析:中国共产党领导的多党合作和政治协商制度是中华人民共和国的一项基本的政治制度。中国共产党领导的多党合作和政治协商制度存在的政治基础是四项基本原则。

49.【答案】正确。解析:十七大报告指出:把全面建设小康社会作为我们党和国家到2020年的奋斗目标。

50.【答案】错误。解析:新中国成立后,党的任务是恢复和发展国民经济。

行测部分

参考答案及解析

1.【答案】C。解析:本题可从第二空入手,与之前的“股市大涨”相对,这里所填的词语应含有股市大跌之意。哀鸿遍野:比喻到处都是呻吟呼号、流离失所的灾民。现在也常用来形容市场遭受打击后大揭阳华图咨询电话:0663-8295956 15323206102 18029961016(普宁揭西惠来专线)
揭阳华图咨询地址:东山黄岐山大道与建阳路交界华图营业厅(广百斜对面)

面积亏损的惨象，如股市、家电行业等。恰合句意，故本题答案为C。

2. 【答案】C。解析：基本：根本的、主要的。本质：事物的根本性质，某类事物区别于其它事物的基本特质。突出：明显，出众。“三个有利于”不是社会主义的唯一特征，故“唯一”不符合题意。生产力、生产关系、经济基础、上层建筑属于社会主义根本性质方面的内容，所以应选“本质”。

3. 【答案】D。解析：优秀的文学作品“应该是大人和小孩所能共读的”，也就是说要兼具趣味性和思想性，让大人读了也能有所领悟和收获。“感悟”有感触、领悟之意，而且与“想法”相呼应，比“感叹”、“感慨”、“感动”更合适。“冲击”一词也契合句意，比“改变”、“影响”更能表现浮躁之气、铜臭之气带来的消极作用。因此本题答案为D。

4. 【答案】B。解析：看第二空，“震慑”指震动得使人害怕；“震撼”指震动、摇撼，表示对人的心灵影响大；“振动”，物理术语，指物体通过一个中心位置不断做往复运动；“震荡”指外力引起的动荡，也指精神上受到重大影响。文中讲观众被表演深深地撼动了，用“震撼”最合适。本题选B。

5. 【答案】A。解析：“束之高阁”与“不实行”正对应，“明摆着是歪理邪说”，我们就应该不在乎它，即“不以为意”，故本题答案为A。

6. 【答案】D。解析：A项并列短语语序不当，“思维力”与“观察力”对调，才能与“捕捉形象”、“挖掘……含义”相对应。B项多层状语语序不当，“发表”的状语应按先时间后刊物的顺序排列，可改为“近年来江山中学的老师们在各种正规报刊上发表……”。C项前说教师，后说学生，“不是”应放在“教师”前。复句中，前后分句的主语如果一致，前一分句的关联词应放在主语后；反之，则放在主语前。故本题答案为D。

7. 【答案】D。解析：A项可改为“5月4日在北京国家大剧院举行了《红色箴言》大型诗歌朗诵会，众多著名表演艺术家炉火纯青的朗诵艺术使在场的大学生热血沸腾，深受震撼”。B项“退稿信”与“用与不用”矛盾。C项句式杂糅，可改为“很多高中毕业生填报志愿时，是优先考虑专业还是优先考虑学校，很大程度上受市场需求、社会动向、父母意愿、个人喜好等因素的影响”或“很多高中毕业生填报志愿时，是优先考虑专业还是优先考虑学校，很大程度上是由市场需求、社会动向、父母意愿、个人喜好等因素造成的”。

8. 【答案】D。解析：D项“民俗风情”与“使我像置身画卷之中”不合逻辑。

9. 【答案】B。解析：A项属于句式杂糅，“听到……”和“……传来”杂糅，可以去掉“听到”或“传来”。C项不合逻辑，“热情关怀，耐心帮助，不能冷淡，更不能歧视”具有正面的意义，而句末却说“对于他们的身心健康与学习都是不利的”，前后矛盾。D项属于一面对两面，前面是“能不能”属于“两面”，后面是“按时完成一份毕业论文”属于“一面”。

10. 【答案】B。解析：瓜田李下：比喻容易引起嫌疑的地方。与A句意不符。坐地分赃：现多指匪首窝主自己不动手而坐在家中分取同伙偷盗来的财物。而C是在犯罪现场。不可理喻：形容人不讲道理。与句意不符，且与“令人”无法搭配，排除D。

11. 【答案】B。解析：整数乘积拆分数列。

$$\begin{array}{cccccc} 3 & 12 & 30 & 63 & 117 & (198) \\ \downarrow & \downarrow & \downarrow & \downarrow & \downarrow & \downarrow \\ 1 \times 3 & 3 \times 4 & 5 \times 6 & 7 \times 9 & 9 \times 13 & (11 \times 18) \end{array}$$

第一个乘数：1、3、5、7、9、(11)是连续奇数；

第二个乘数：

$$\begin{array}{cccccc} 3 & 4 & 6 & 9 & 13 & (18) \\ \swarrow & \searrow & \swarrow & \searrow & \swarrow & \searrow \\ & 1 & 2 & 3 & 4 & (5) \end{array}$$

作差
连续自然数

12. 【答案】C。解析：和数列变式。

$$6 \quad 10 \quad -18 \quad 22 \quad (-24)$$

作和

揭阳华图咨询电话：0663-8295956 15323206102 18029961016（普宁揭西惠来专线）

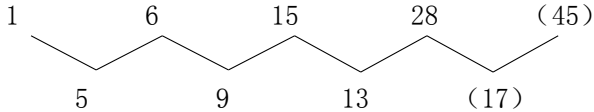
揭阳华图咨询地址：东山黄岐山大道与建阳路交界华图营业厅（广百斜对面）

16 -8 4 (-2)

公比为 $-\frac{1}{2}$ 的等比数列

13. 【答案】B。解析：和数列变式。 $1 \times 2 + 2 = 4$ 、 $4 \times 2 + 3 = 11$ 、 $11 \times 2 + 5 = 27$ 、 $27 \times 2 + 7 = 61$ 、 $61 \times 2 + 11 = 133$ 、 $133 \times 2 + 13 = (279)$ ，其中加数 2、3、5、7、11、(13) 是连续质数。

14. 【答案】C。解析：二级等差数列。

1 6 15 28 (45)

 5 9 13 (17)

作差
公差为 4 的等差数列

15. 【答案】C。解析：积数列变式。第一项 \times 第二项+1=第三项，以此类推， $13 \times 53 + 1 = (690)$ 。

16. 【答案】C。解析： $5 \ 5 + 5 \ 8 + 6 \ 2 + 6 \ 5 = 2 \ 4 \ 0$ 岁，这个数字等于甲、乙、丙、丁四个人岁数之和的 3 倍，则四个人岁数之和为 $2 \ 4 \ 0 \div 3 = 8 \ 0$ 岁，则四个人年龄最小的岁数是 $8 \ 0 - 6 \ 5 = 1 \ 5$ 岁。

17. 【答案】B。解析：解法一，设这个球队胜了 x 场，则平了 $1 \ 6 - 8 - x = (8 - x)$ 场，由题意可得 $3 \ x + (8 - x) = 1 \ 6$ ，解得 $x = 4$ 。解法二，看成鸡兔同笼问题。依题意，共胜和平 $16 - 8 = 8$ 场，则假设 8 场全平，可求得这个球队胜了 $(16 - 8 \times 1) \div (3 - 1) = 4$ 场。

18. 【答案】A。解析：盈亏问题，前后总分相差 $97 - 73 = 24$ 分，平均分相差 $90 - 87 = 3$ 分。则这组试卷份数为 $24 \div 3 = 8$ 份。

19. 【答案】B。解析：4 和 6 的最小公倍数是 12， $200 \div 12 = 16 \cdots 8$ ，这样的数共有 16 个。

20 【答案】C。解析： $2 \ 4 \ 5 \ 0 = 2 \times 5 \times 5 \times 7 \times 7$ ，三人年龄之和为 6 4，分析可知当三人年龄分别为 5、1 0、4 9 时符合题意，年龄最大者是 4 9 岁。

21. 【答案】B。解析：运用排除法，根据题图，折叠以后图形应该是凸起，而不是凹陷，排除 A；C 项的突起部分的长度与原图不符，排除 C；在题图中凸起的面只有两个，排除 D，所以选择 B。

22. 【答案】A。解析：考虑图形中阴影圆圈整体的位置变动。第一个图形中的阴影圆圈向上移动一个位置得到第二个图形，第二个图形中的阴影圆圈向下移动两个位置得到第三个图形，依此循环变化；实际上是，奇数项图形和偶数项图形分别来看，所有黑色圆圈均向下移动一个位置。

23. 【答案】B。解析：每组第一个图形是立体图形，第二个图形是这个立体图形的左视图，第三个图形是这个立体图形的俯视图。

24. 【答案】C。解析：每行或每列三个图形的直线数之和都是 1 0，应选择直线数为 3 的图形，选项中只有 C 符合。

25. 【答案】C。解析：奇数项图形都是方形，个数依次是 4、2、(1)；偶数项图形都是三角形，个数依次是 1、2。

26. 【答案】D。解析：考查复言推理。要推出小李是工人，由 (2) 和选言命题的推理规则，只有否定一个选言肢才能肯定另一个选言肢，所以要求“小王不是工人”为真。由 (1) 和充分条件的假言推理规则，否定后件就能否定前件，所以要求“小张是医生”为真。同理，由 (3)，要求“小赵是学生”为真。再由 (4)，要求“小周是经理”为真。故答案选 D。

【考点点拨】此题先给出结论，要求前提，考查的是复言命题的逆向推理过程，考生在解题时要注意推理规则的逆向运用。对这类题目考生也可使用代入法。

27. 【答案】D。解析：假设 A 预测错误，则甲不是第 4。根据只有一个人预测错误可知，B、C、D 三人的预测为真。因此，乙、丙、丁也都不是第 4，则没人第 4，假设不成立。所以 A 预测正确，甲第 4，排除 A、B、C 三项，故答案选 D。

【思路点拨】此题为分析推理题，由四人的预测无法得出预测错误的是谁，需要使用假设法或代入法来解题。显然此题用代入法较为繁琐，可以用假设法结合排除法来解题。

28. 【答案】A。解析：人数为 3、3、2 的联盟，任意组合都可以形成 5 个或 5 个以上的人结盟，权力均等。而由“一旦其中出现 5 个或 5 个以上的人结盟，那么其余的人实际上已被出局”，可知人数为 1 的联

揭阳华图咨询电话：0663-8295956 15323206102 18029961016 (普宁揭西惠来专线)

揭阳华图咨询地址：东山黄岐山大道与建阳路交界华图营业厅 (广百斜对面)

盟被踢出局，权利为零。故答案选 A。

29. 【答案】D。解析：考查直言命题的矛盾关系，可用矛盾法解题。游戏界面的四个选项中，第一个选项和第四个选项是矛盾关系，必有一真一假。由“只有一句为真”则第二个选项和第三个选项都为假，由第二个选项为假可知 C 项错误；由第三个选项为假可知 D 项正确。无法得知第一个选项与第四个选项的真假，A、B 两项都无法推出。

30. 【答案】B。解析：加强型题目。题干的结论是“人造糖中的氨基酸使得人的认知能力降低”。

B 项指出氨基酸含量高能使头脑正常运转的物质发生化合反应，指出了得出结论的原因，因此能够最有力的支持题干结论；其他几项均不能支持。

31. 【答案】C。解析：本题两个词属于称呼一致型的关系，并且，前者是音译外来词，满足这两个条件的是 C 项。

32. 【答案】A。解析：基尼系数是衡量收入分配差异程度的指标，恩格尔系数是食品支出总额占个人消费支出总额的比重。B 项 CPI 即指消费者价格指数，C 项两者没有关系，D 项恒生指数是香港股市价格的重要指标。故答案选 A。

33. 【答案】B。解析：大脑可以存储记忆，硬盘可以存储资料。

34. 【答案】A。解析：先有设计后有建筑，先有计划后有成果。且设计是一种计划，建筑是一种成果，两者相对应。

此题 B 项也有一定的道理，建筑图纸，工作计划都可以构成偏正短语，且图纸对应计划，建筑对应工作。但当此种对应关系成立时，建筑应作为建筑过程来理解，是一个动词，但工作也可以作名词，略有不同。相比之下，选 A 项更好一些。

35. 【答案】B。解析：包含关系，信箱是邮局的一部分，硬盘是电脑的一部分。

36. 【答案】A。解析：这五个事件描述的是考古学家发现古城堡的过程，通过表述可知，考古学家是通过古陶器的分析、鉴定而发现古城堡的，因此事件①、③、⑤之间的发生顺序必为①→③→⑤；而事件①又与事件②、④有着必然的联系，这三个事件描述了考古学家得到古陶器的过程，那么在这三个事件中，首先发生的应当是②“一个古陶器被人发现”，进而古陶器才有可能进入“市场”，考古学家才可能买到它。

37. 【答案】B。解析：此题比较简单，根据一般人的经验③起床应为这五个事件中的最基本条件，可以排除 C 项，④做早饭和①洗脸刷牙都可成为起床后的后续动作，但①洗脸刷牙一般应在②吃早饭之前，故 A 项错误；D 项将④做早饭和②吃早饭的顺序颠倒了，故答案选 B。

38. 【答案】C。解析：电影取得成功后，其中的插曲才会被广为传唱，所以⑤应排在③之前，据此，先排除 A、B 两项。到基层体验生活发生在歌曲创作完成之前，即电影公映之前，所以⑤不可能发生在④的前面，据此排除 D 项。

39. 【答案】B。解析：首先可排除 A 项，天气预报应发生在暴风雨之前；其次，可排除 D 项和 C 项，“铁路局重新制定了运行计划”的直接原因是“列车不能正常运行”，而这又是“洪水冲毁了何处铁路”造成的，所以③应排在最后。

40. 【答案】C。解析：许多人搬到郊区居住是导致私人汽车大量增加的一个重要原因，而大量小汽车又造成了交通拥挤问题，为此，政府采取了限制私人购车的措施，使人们把目光投向公共交通设施。

41. 【答案】B。解析：由图可知小麦的产量为 1200.35 万斤；粮食作物的总产量为 $1200.35+548.109+230.131+82.519+360.203+179.54+83.023+54.234+26.891=2765$ 万斤。所以小麦的产量占粮食作物总产量的百分比为 $1200.35 \div 2765=43.4\%$ 。因此选择 B。

42. 【答案】D。解析：由图可知豆类作物（包括黑豆、绿豆、黄豆、红豆和花豆）的产量为 $360.203+179.54+83.023+54.234+26.891=703.891$ 万斤，夏粮（即小麦）的产量为 1200.35 万斤，两者相差 $(1200.35-703.891) \div 2765=17.9\%$ ，因此选择 D。

43. 【答案】C。解析：除了小麦，图中其他作物均属于秋粮。由图观察可知，其中产量最大的是水稻为 548.109 万斤；产量最小的是花豆为 26.891 万斤。 $548.109 \div 26.891 \approx 550 \div 27=20.37$ ，因此选择 C。

揭阳华图咨询电话：0663-8295956 15323206102 18029961010（普宁揭西惠来专线）

揭阳华图咨询地址：东山黄岐山大道与建阳路交界华图营业厅（广百斜对面）

44. 【答案】C。解析：豆类作物中产量排第二位的是绿豆的 179.54 万斤，非豆类作物中产量排第二位是水稻的 548.109 万斤，所以 $179.54 \div 548.109 = 32.76\%$ ，故选 C。

45. 【答案】B。解析：粮食作物中的高秆作物是指高粱，产量是 82.519 万斤，秋粮作物产量为 (2765-1200.35) 万斤，则所求为 $82.519 \div (2765-1200.35) = 5.3\%$ ，故选 B。

【注】材料中的高秆作物只有高粱，秋粮作物是包括材料中除小麦以外的所有作物

46. 【答案】B。解析：由“2009年第一季度，……其中立案查处案件49654件，同比下降32.26%……”可知，若保持同比下降率不变，2010年第一季度全国立案查处案件数为 $49654 \times (1 - 32.26\%) \approx 50000 \times 70\% \approx 3.5$ 万，只有 B 最接近。

47. 【答案】D。解析：由“从违法法规看，……违反产品质量法规案件6760件，同比下降27.51%；……违反商标法规案件4119件，同比下降21.93%……”可知，违反产品质量法规案件减

少量与违反商标法规案件减少量的比值是 $(\frac{6760}{1-27.51\%} \times 27.51\%) \div (\frac{4119}{1-21.93\%} \times 21.93\%)$

$$= \frac{6760}{4119} \times \frac{27.51\%}{1-27.51\%} \times \frac{1-21.93\%}{21.93\%} > 2 \times \frac{27.5}{72.5} \times \frac{78}{22} = 2 \times \frac{39}{29} > 2 \times \frac{3}{3} = 2$$
，只有 D 符合。

48. 【答案】A。解析：从第三段可知，各类违法主体占立案查处案件比重最高的是个体工商户，案件数为 22142 件，最低的是集体企业，案件数为 728 件，各类违法主体占立案查处案件比重的最高值

与最低值相差 $\frac{22142}{49654} \times 100\% - \frac{728}{49654} \times 100\% = \frac{21414}{49654} \times 100\% > \frac{20000}{50000} = 40\%$ ，只有 A 符合。

49. 【答案】C。解析：(1) 由“案件总值33.57亿元，同比下降21.26%，罚没金额3.33亿元，同比下降39.49%”可知，罚没金额同比下降率大于案件总值同比下降率，正确；

(2) 由“违反合同法规案件156件，同比下降57.02%”可知，2008年第一季度，违反

合同法规案件为 $\frac{156}{1-57.02\%} \approx 363$ 件，错误；

(3) 由“公司案件6521件……私营企业案件3957件……集体企业案件728件”， $3957 + 728 < 4000 + 1000 < 6521$ ，

可知公司案件数大于私营企业案件与集体企业案件数之和，正确。

综上所述，与资料相符的说法有 2 个。

50. 【答案】C。解析：A 项，由“自然人案件12472件，同比下降49.04%；……集体企业案件728件，同比下降45.26%”可知，自然人案件与集体企业案件同比下降均超过 40%，正确；

B 项，违反广告法规案件 2141 件，各类违法违章案件 6820 件，违反广告法规案件占各类违

法违章案件的比重为 $\frac{2141}{6820} \times 100\% \approx 3.14\%$ ，正确；

C 项，由“违反反不正当竞争法规案件 4944 件，同比增长 6.51%”可知，C 错误；

D 项，违反反不正当竞争法规案件 4944 件，违反消费者权益保护法规定案件 1644 件， $4944 \div 1644 \approx 3$ ，正确。

综上所述，不正确的是 C。

51. 【答案】D。解析：本题考查的知识点是唯物辩证法的总特征。唯物辩证法作为一种哲学理论，是关于世界普遍联系和永恒发展的学说，揭示的是自然界、人类社会和思维发展的一般规律。普遍联系和永

揭阳华图咨询电话：0663-8295956 15323206102 18029961020 (普宁揭西惠来专线)

揭阳华图咨询地址：东山黄岐山大道与建阳路交界华图营业厅 (广百斜对面)

恒发展是辩证法的总特征。

52.【答案】B。解析：生产力由劳动者和生产资料组成；劳动者是决定性的因素；生产资料里面的生产工具是生产力发展水平的标志。

53.【答案】D。解析：“卧薪尝胆”典故的主人公是春秋时期的越王勾践。“退避三舍”是春秋时期晋楚争霸中发生的故事。“秦晋之好”是说春秋时，秦晋两国不止一代互相婚嫁，并且相互扶持，相继出现了秦穆公和晋文公两代霸主。“负荆请罪”是战国时期赵国的廉颇与蔺相如的一段故事。本题选择D项。

54.【答案】B。解析：“感时花溅泪，恨别鸟惊心”出自杜甫的《春望》。A、C、D三项分别出自李商隐的《无题》、李白的《将进酒》和韦应物的《滁州西涧》。

55.【答案】B。解析：乡试第一名叫解元。

56.【答案】D。解析：正月是农历的元月，古人称其为“宵”，而十五日又是一年中第一个月圆之夜，所以称正月十五为元宵节。又称为上元节、小正月、元夕或灯节，是春节之后的第一个重要节日。道教曾把一年中的正月十五称为上元节，七月十五为中元节，十月十五为下元节，合称“三元”。

57.【答案】无答案。解析：1980年，国家正式设立深圳、珠海、汕头和厦门四个经济特区，在经济特区的带领下，珠三角成为中国最先快速发展起来的地区。长三角的崛起是继珠三角之后。党的十四大报告中提出要加快环渤海地区的开发、开放，将这一地区列为全国开放开发的重点区域之一，国家有关部门也正式确立了“环渤海经济区”的概念，并对其进行了单独的区域规划。2004年3月，温家宝总理在政府工作报告中，首次明确提出促进中部地区崛起。根据时间排序，正确顺序应该为②①③④。

58.【答案】C。解析：地形雨是世界降水形式中的三大降水方式（地形雨、锋面雨和对流雨）之一。地形雨因为地形的阻挡作用引起降雨而得名。故选C。

59.【答案】B。解析：对于被判处拘役、三年以下有期徒刑的犯罪分子，根据犯罪分子的犯罪情节和悔罪表现，适用缓刑确实不致再危害社会的，可以宣告缓刑。

60.【答案】B。解析：品位分类以“人”为中心，依地位高低来分类和定待遇，职位分类以“事”为中心，依工作职责和贡献大小分类和确定待遇。

品位分类制最主要的特点是对“人”的分类，而非对“事”的分类。对“人”的分类，系指对人员的品级官阶加以区分，而不涉及各等级人员所担任之“事”，即工作职务的分类。

“职位分类”的重要特点之一，就在于“级不随人走”，就在于“官和职融为一体，不存在品位分类结构中那种独立于职位的官阶”。在这里，职等、职级的等级都是从属于职位的，它们不是文官个人的等级，所以若无职位，便无等级可言。